

Prof. Dr. Sándor P. Fekete  
 Dr. Christian Scheffer  
 Jan-Marc Reinhardt

## Klausur

### *Algorithmen und Datenstrukturen*

**02.03.2016**

Name: .....

Vorname: .....

Matr.-Nr.: .....

Studiengang: .....

*Mit der Veröffentlichung meines Klausurergebnisses unter meiner Matrikelnummer bin ich einverstanden.*

.....  
*Unterschrift*

Bachelor       Master       Andere

**Hinweise:**

- Bitte das Deckblatt vollständig ausfüllen.
- Die Klausur besteht aus 15 Blättern, bitte auf Vollständigkeit überprüfen.
- Erlaubte Hilfsmittel: Keine.
- Eigenes Papier ist nicht erlaubt.
- Die Rückseiten der Blätter dürfen beschrieben werden.
- Die Heftung der Blätter darf nicht entfernt werden.
- Antworten die *nicht* gewertet werden sollen bitte deutlich durchstreichen. Kein Tippex verwenden.
- Mit *Bleistift* oder in *Rot* geschriebene Klausurteile können nicht gewertet werden.
- Werden mehrere Antworten gegeben, werten wir die mit der geringsten Punktzahl.
- Sämtliche Algorithmen, Datenstrukturen, Sätze und Begriffe beziehen sich, sofern nicht explizit anders angegeben, auf die in der Vorlesung vorgestellte Variante.
- Die Bearbeitungszeit für die Klausur beträgt 120 Minuten.

Aufgabe	1	2	3	4	5	6	7	8	$\Sigma$
<b>Punkte</b>	<b>16</b>	<b>10</b>	<b>17</b>	<b>17</b>	<b>10</b>	<b>10</b>	<b>10</b>	<b>10</b>	<b>100</b>
<b>Erreicht</b>									
<b>Note</b>	—	—	—	—	—	—	—	—	

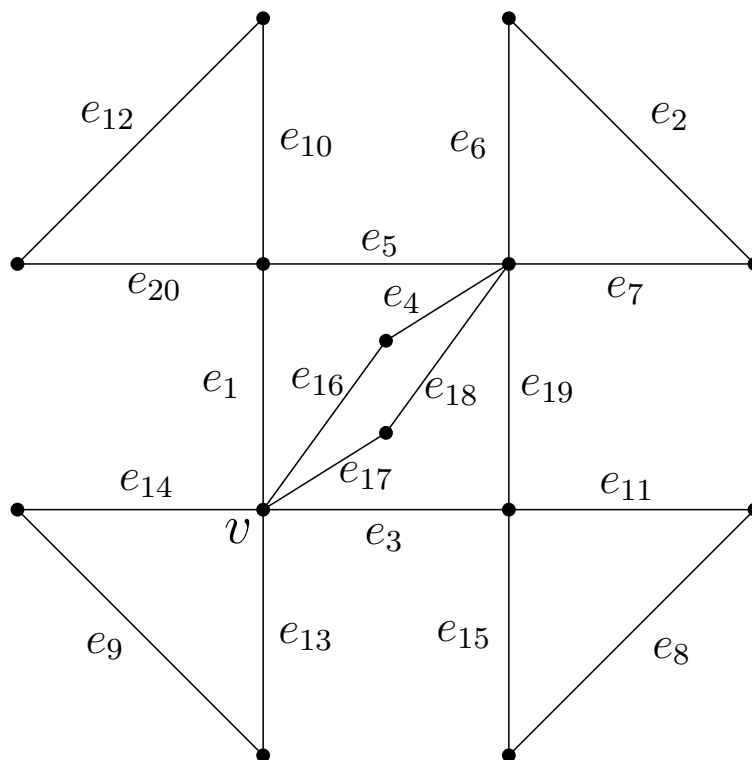


Abbildung 1: Der Graph  $G$

- a) Wende Fleurys Algorithmus auf den Graphen  $G$  aus Abbildung 1 an. Starte am Knoten  $v$  und wähle in jedem Schritt, in dem mehrere Kanten zur Auswahl stehen, diejenige mit dem kleinsten Index. Gib die Reihenfolge der gewählten Kanten an.

b) Zeige oder widerlege: Jeder einfache, zusammenhängende Graph mit genau vier Knoten, der keinen Eulerweg enthält, enthält auch keinen Hamiltonkreis.

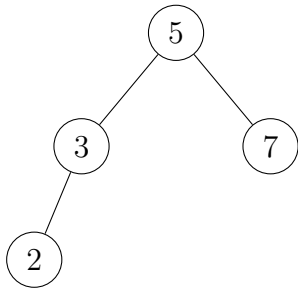
c) Sei  $P = (v_0, v_1, v_2, \dots, v_{k-1}, v_k)$  ein kürzester Weg zwischen  $v_0$  und  $v_k$  in einem Graphen  $G$ ,  $k \geq 2$ . Beweise: Der Weg  $P' = (v_i, v_{i+1}, \dots, v_{j-1}, v_j)$  ist ein kürzester Weg zwischen  $v_i$  und  $v_j$  für alle  $i, j$  mit  $0 \leq i < j \leq k$ .

## Aufgabe 2: AVL-Bäume

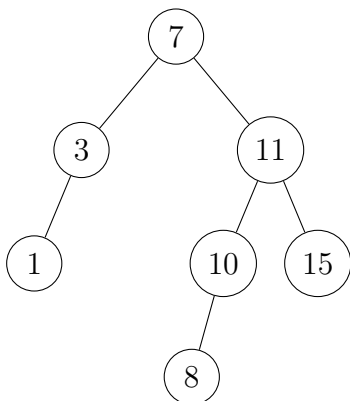
(10 Punkte)

Betrachte in den Aufgabenteilen a) bis e) den Baum, der in der jeweiligen Abbildung dargestellt wird. Führe die Operation, die in dem jeweiligen Aufgabenteil genannt ist, und die damit verbundenen Restrukturierungsmaßnahmen (damit sind die Algorithmen aus der Vorlesung gemeint, die die AVL-Eigenschaft erhalten) auf dem entsprechenden Baum aus. Zeichne dabei das Resultat nach jeder einzelnen ausgeführten Operation INSERT, DELETE und RESTRUCTURE in einen separaten Baum:

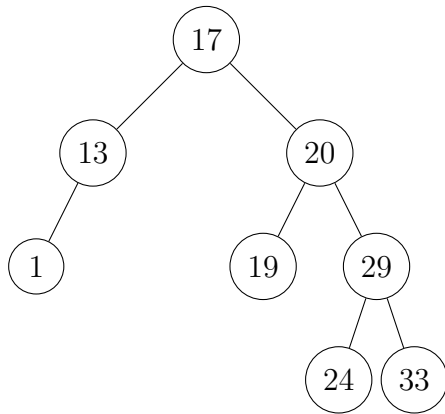
a) INSERT( $T, 1$ )



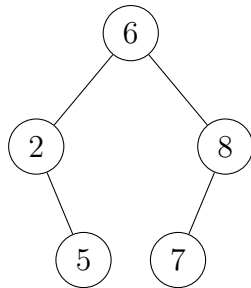
b) DELETE( $T, 7$ )



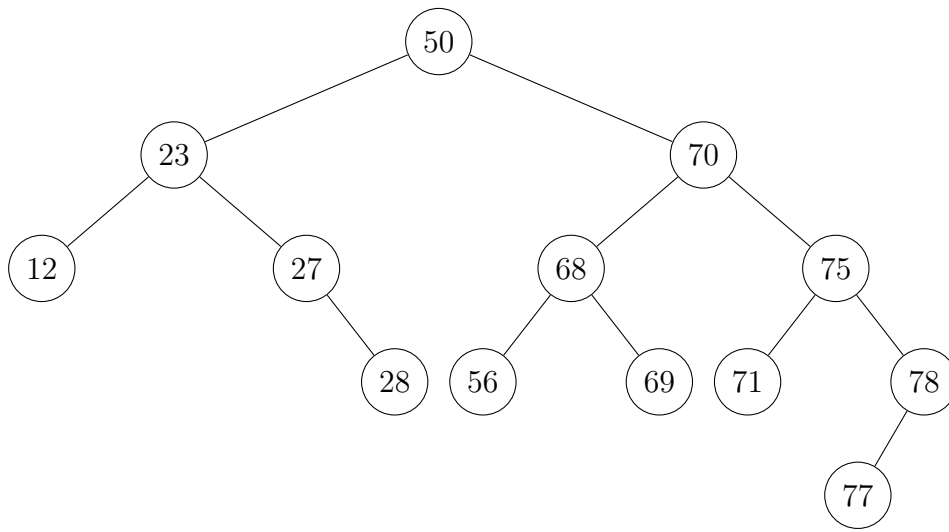
c)  $\text{INSERT}(T, 27)$



d)  $\text{INSERT}(T, 4)$



e) DELETE( $T, 12$ )



### Aufgabe 3: Komplexität

(4+4+5+4 Punkte)

Seien  $f, g, h : \mathbb{N} \rightarrow \mathbb{R}^+$  drei Funktionen.  $f \cdot g$  ist definiert als  $(f \cdot g)(n) = f(n)g(n)$ .

a) Zeige oder widerlege:  $f \in O(h) \wedge g \in O(h) \Rightarrow f \cdot g \in O(h^2)$

b) Zeige oder widerlege:  $f \in \Theta(g) \wedge h \in O(g) \Rightarrow f \in O(h)$

c) Fülle die folgende Tabelle aus, indem du einträgst, in welcher Beziehung die in der Zeile angegebene Klasse  $A$  zu der in der Spalte angegebenen Klasse  $B$  steht. Trage folgende Symbole ein:

- $\subset$ , wenn  $A$  eine echte Teilmenge von  $B$  ist,
- $\supset$ , wenn  $B$  eine echte Teilmenge von  $A$  ist,
- $=$ , wenn  $A$  und  $B$  gleich sind,
- $x$ , wenn weder  $A$  eine Teilmenge von  $B$  noch  $B$  eine Teilmenge von  $A$  ist.

Die mit — markierten Zellen müssen nicht ausgefüllt werden.

	$O(n^3)$	$\Theta(n^2)$	$\Omega(n)$	$\Omega(\log n)$	$O(n^2)$
$O(n^3)$	—				
$\Theta(n^2)$	—	—			
$\Omega(n)$	—	—	—		
$\Omega(\log n)$	—	—	—	—	
$O(n^2)$	—	—	—	—	—

d) Gesucht ist ein Algorithmus, der auf  $n$  Elementen arbeitet. Dazu gibt es zwei Möglichkeiten.

- (i) Algorithmus 1 betrachtet alle (ungeordneten) Paare von Elementen. Die Bearbeitung jedes Paares geht in  $O(1)$  Zeit.
- (ii) Algorithmus 2 benutzt Divide & Conquer und teilt die  $n$  Elemente in zwei gleichgroße Teilmengen, auf denen Algorithmus 2 dann rekursiv aufgerufen wird. Aufteilen und Zusammenfügen der Teillösungen geht jeweils in  $O(n)$ .

Welche Laufzeiten haben Algorithmus 1 und 2 (jeweils mit Begründung!)? Welches Verfahren ist asymptotisch schneller?



#### Aufgabe 4: Rekursionen

(4+4+4+5 Punkte)

a) Wie lautet das Mastertheorem aus der Vorlesung?

b) Bestimme mit Hilfe des Mastertheorems das asymptotische Wachstum der Rekursion

$$T(n) = 3T\left(\frac{n}{2}\right) + 17n^2 + 4T\left(\frac{n}{4}\right)$$

Bestimme die Werte aller im Mastertheorem auftretender Parameter.

c) Betrachte die folgende Rekursionsgleichung:

$$L_0 = 2, L_1 = 1, L_n = L_{n-1} + 2L_{n-2}$$

Berechne  $L_2$  bis  $L_9$  und trage sie in die Tabelle ein.

$n$	0	1	2	3	4	5	6	7	8	9
$L_n$	2	1								

d) Bestimme eine geschlossene Form (d.h. eine Funktion in Abhängigkeit von  $n$ , die keine Rekursion benutzt) für die Rekursionsgleichung aus c) und beweise ihre Korrektheit per vollständiger Induktion. (Hinweis: Die geschlossene Form muss nicht hergeleitet werden. Du sollst anhand der Werte aus c) eine Vermutung aufstellen und diese per Induktion beweisen.)

**Aufgabe 5: Sortieren****(10 Punkte)**

Wende Mergesort auf das Array

$$A = [5, 3, 6, 7, 2, 11, 8, 4, 9, 10, 1]$$

an. Gib dazu separat und in chronologischer Reihenfolge die Ergebnisse aller Mergeschritte auf Teilarrays der Länge  $\geq 2$  an, indem Du die Zeilen der Tabelle ausfüllst.

$A =$	5	3	6	7	2	11	8	4	9	10	1
1. $A =$											
2. $A =$											
3. $A =$											
4. $A =$											
5. $A =$											
6. $A =$											
7. $A =$											
8. $A =$											
9. $A =$											
10. $A =$											

### Aufgabe 6: Median

(10 Punkte)

Gegeben sei die Menge  $X = \{x_1, \dots, x_n\}$  von paarweise verschiedenen natürlichen Zahlen für  $n \in \mathbb{N}$  und  $k \in \mathbb{N}$  mit  $1 \leq k \leq n$ .

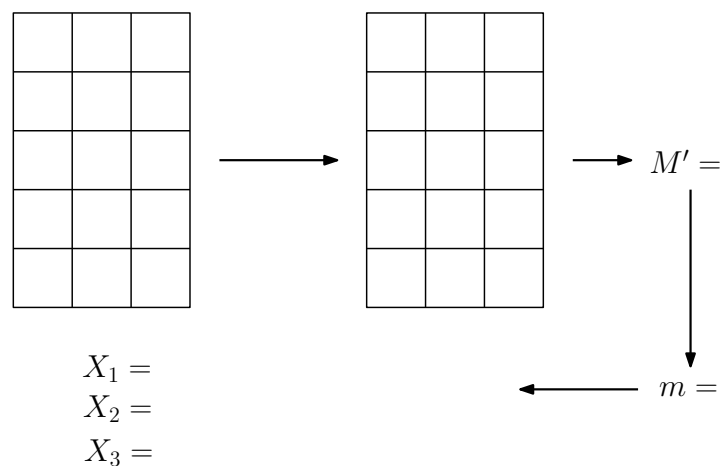
a) Wie ist das *k-te Element von X* definiert?

b) Beschreibe in eigenen Worten das Vorgehen des SELECT-Algorithmus.

c) Welche Laufzeit  $T(n)$  hat der SELECT-Algorithmus? Gib die rekursive Darstellung von  $T(n)$  an und erkläre diese.

d) Welche Auswirkung hat es auf  $X_2$ , dass  $X$  nur paarweise verschiedene Zahlen enthält?

e) Wende den SELECT-Algorithmus auf  $X = \{4, 2, 10, 5, 9, 7, 14, 3, 15, 1, 6, 8, 11, 12, 13\}$  und  $k = 3$  an. Gib hierbei nur für die oberste Rekursionsebene die berechneten Blöcke,  $M'$  und  $m$  an, indem Du das folgende Ablaufdiagramm komplettierst. Markiere die Teilmenge von  $X$ , in der das  $k$ -te Element rekursiv weiter gesucht wird.



**Abbildung 2:** Ablaufdiagramm von SELECT für die oberste Rekursionsebene.



Aufgabe 8: Kurzfragen

(2+2+2+2+2 Punkte)

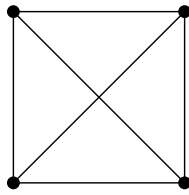


Abbildung 3: Eine Darstellung des  $K_4$

- a) Nach dem Löschen eines Elements aus einem AVL-Baum reicht immer ein **Restructure**, um den Baum zu balancieren.  wahr  falsch
- b) Hamiltonpfade benutzen jede Kante höchstens einmal.  wahr  falsch
- c) Jede Permutation der Zahlen  $1, 2, \dots, n$  kann in  $O(n)$  sortiert werden.  wahr  falsch
- d) Der  $K_4$  ist planar.  wahr  falsch
- e) Das Bauen eines Max-Heaps mit  $n$  Knoten benötigt mindestens  $\Omega(n \log n)$  Zeit.  wahr  falsch

Viel Erfolg 😊